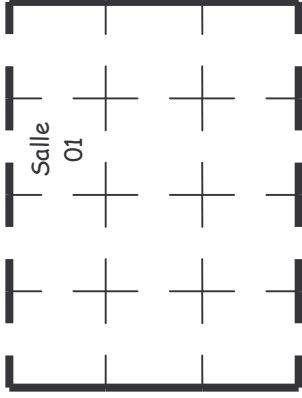


ÉPREUVE 6 : Le plan de l'école


Les travaux de l'école viennent de s'achever et une journée portes ouvertes est organisée. Les parents de Tristan veulent visiter toutes les salles de classes en partant de la salle 01 et en ne passant qu'une seule fois dans chaque salle. Ils ne quittent pas le bâtiment avant d'avoir tout visité.

COUR



COUR

Reproduis le plan et trace 4 chemins différents que les parents de Tristan peuvent emprunter. Utilise 4 couleurs différentes.



ÉPREUVE 7 : Bonne impression

Une classe fabrique un journal de 8 pages. Ces 8 pages sont imprimées sur une seule grande feuille avec 4 pages d'un côté (au recto) et 4 pages de l'autre côté (au verso). Cette grande feuille est alors pliée en deux, puis encore en deux et ensuite agrafée. On obtient le journal si on coupe bien !

	P 1		P 2	

Recto

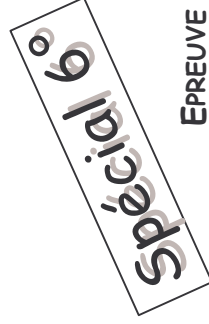
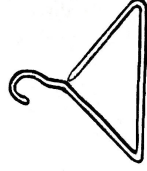
Verso

Écris les numéros de pages manquants de telle façon que les numéros soient en bas et au milieu de chaque page une fois le journal terminé.


ÉPREUVE 8 : Qui est qui ?

Anne, Brigitte, Claire et Denise sont 4 amies. Leurs professions sont : vendeuse, institutrice, infirmière et coiffeuse. Anne et Claire vont souvent prendre le thé chez l'institutrice. La coiffeuse et la vendeuse aiment bien de temps en temps préparer des gâteaux avec Brigitte et Claire. Ce matin Claire a rencontré Anne chez leur amie coiffeuse.

Quelle est la profession de chacune ?



ÉPREUVE 9 : Pions Espions



Dans un tableau comportant 5 lignes et 5 colonnes, place 5 pions de façon qu'il n'y ait :

- qu'un pion par ligne,
- qu'un pion par colonne,
- et maximum qu'un pion par diagonale ou parallèle à une diagonale.